

(७) आकृत्यांवरील प्रश्न, घनावरील प्रश्न

१) सोबतच्या आकृतीतील चौकोनांची संख्या दर्शवणारा पर्याय निवडा.



१) १५

२) १६

३) १७

४) १८

1) Select option that indicates number of quadrangle in the accompanying image.



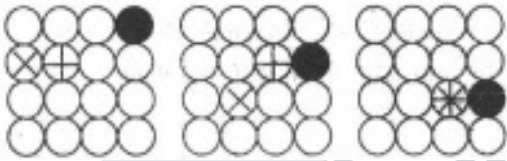
1) 15

2) 16

3) 17

4) 18

२) प्रश्नचिन्हाच्या जागेसाठी प्रतिमा निवडा.




?


१)




२)



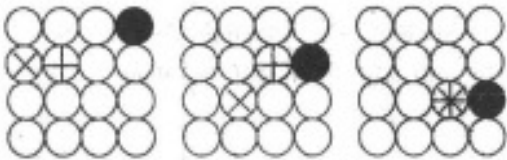
३)



४)

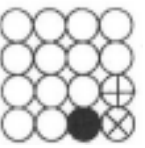


2) Select the image for question mark.



?

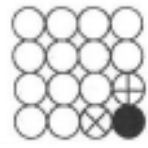
1)




2)



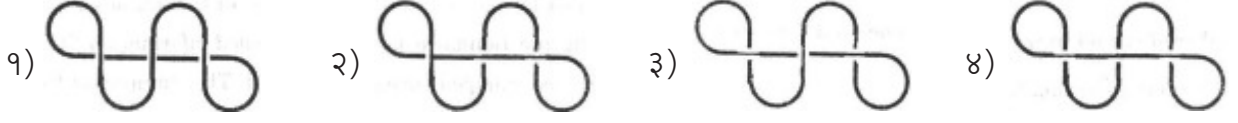
3)




4)



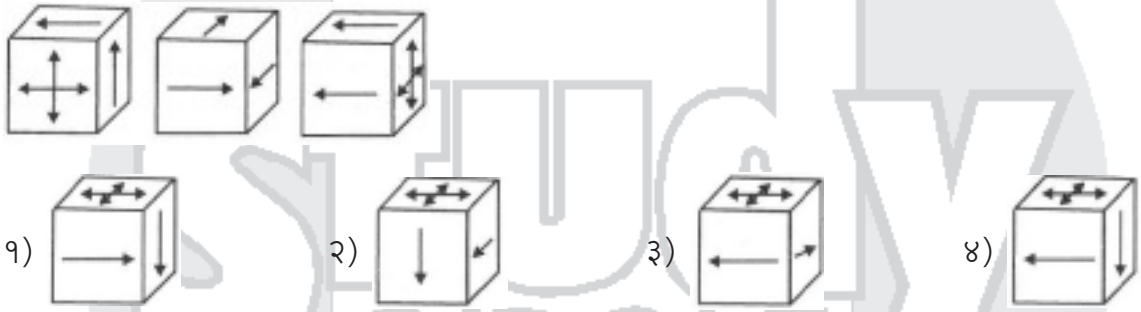
- ३) शोक्के लोक काडी वापरून ती जाकिननीप्पिपीस्ससूपन्नपन्न उचलता पासून सोनां आअकृतीतती पूर्ण करतात. दिलेल्या पर्यायांतून विसंगत रचना निवडा.



- ३) Tschokwe people complete Sona patterns using a stick without removing the stick from the ground. Select the odd pattern from given options.

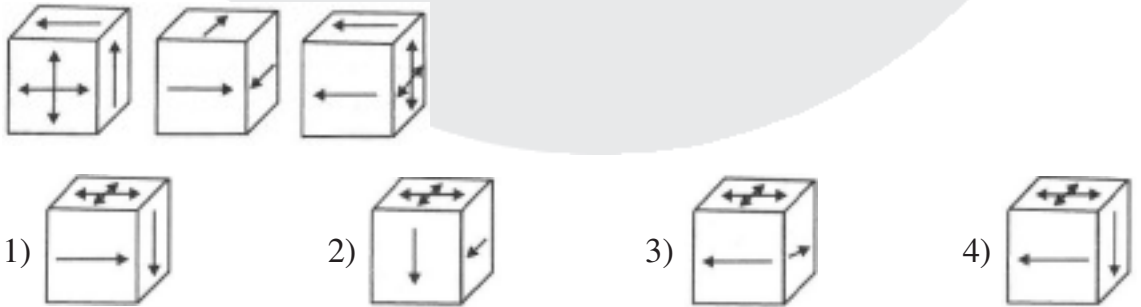


- ४) सोबतच्या प्रतिमा . या खेळात वापरल्या जाणाऱ्या दिशांकित फाशाची तीन परिप्रेक्ष्ये प्रतिरूपित करतात. जुजबी सामान्यज्ञान प्रश्नांची उत्तरे देणे आणि फलकावर सोंगटी हलवण्यासाठी दोन फासे फेकणे या कृतींनी हा खेळ बनलेला असतो. एक फासा सामान्य असतो. दुसरा दिशा फासा कोणत्या दिशेने जायचे याचे निर्देशन करतो. फाशाच्या पाच पृष्ठांपैकी प्रत्येकावर एकेक बाणांच्या खुणा असून सहाव्या पृष्ठावर खेळाडूला निवडीला उपलब्ध असलेल्या दिशा दाखवणारे चार बाण आहेत. पुढीलपैकी दिशा फाशाचे अन्य परिप्रेक्ष्य दाखवणारी प्रतिमा निवडा.



- ४) Accompanying images. Three perspectives represent the directional dice used in this game. The game consists of answering trivia questions and throwing two dice to move the dice on the board. A dice is normal. The second direction dictates which direction the dice should go. Each of the five faces of the dice has individual arrow marks and the sixth face has four arrows showing the directions available to the player to choose from.

Choose an image from the following that shows a different perspective of Disha Fasha.



उत्तरे : (७)आकृत्यांवरील प्रश्न, घनावरील प्रश्न

१-४

२-२

३-३

४-१